






BẢNG CHIA 9



$$9 \times 3 = 27$$

$$27 : 9 = 3$$

$$9 : 9 = 1$$

$$18 : 9 = 2$$

$$27 : 9 = 3$$

$$36 : 9 = 4$$

$$45 : 9 = \dots$$

$$54 : 9 = \dots$$

$$63 : 9 = \dots$$

$$72 : 9 = \dots$$

$$81 : 9 = \dots$$

$$90 : 9 = \dots$$

1 Tính nhẩm :

$$18 : 9 =$$

$$27 : 9 =$$

$$54 : 9 =$$

$$63 : 9 =$$

$$45 : 9 =$$

$$72 : 9 =$$

$$36 : 9 =$$

$$63 : 7 =$$

$$9 : 9 =$$

$$90 : 9 =$$

$$81 : 9 =$$

$$72 : 8 =$$

2 Tính nhẩm :

$$9 \times 5 =$$

$$9 \times 6 =$$

$$9 \times 7 =$$

$$9 \times 8 =$$

$$45 : 9 =$$

$$54 : 9 =$$

$$63 : 9 =$$

$$72 : 9 =$$

$$45 : 5 =$$

$$54 : 6 =$$

$$63 : 7 =$$

$$72 : 8 =$$

3 Có 45kg gạo, chia đều vào 9 túi. Hỏi mỗi túi có bao nhiêu ki-lô-gam gạo ?

4 Có 45kg gạo chia vào các túi, mỗi túi có 9kg. Hỏi có bao nhiêu túi gạo ?