




## BẢNG NHÂN 8



	}	8 được lấy 1 lần, ta viết : $8 \times 1 = 8.$	$8 \times 1 = \dots$ $8 \times 2 = \dots$ $8 \times 3 = \dots$
	}	8 được lấy 2 lần, ta có : $8 \times 2 = 8 + 8 = 16$ Vậy : $8 \times 2 = 16.$	$8 \times 4 = \dots$ $8 \times 5 = \dots$ $8 \times 6 = \dots$
	}	8 được lấy 3 lần, ta có : $8 \times 3 = 8 + 8 + 8 = 24$ Vậy : $8 \times 3 = 24.$	$8 \times 7 = \dots$ $8 \times 8 = \dots$ $8 \times 9 = \dots$ $8 \times 10 = \dots$

### 1 Tính nhẩm :

$8 \times 3 =$	$8 \times 2 =$	$8 \times 4 =$	$8 \times 1 =$
$8 \times 5 =$	$8 \times 6 =$	$8 \times 7 =$	$0 \times 8 =$
$8 \times 8 =$	$8 \times 10 =$	$8 \times 9 =$	$8 \times 0 =$

### 2 Mỗi can có 8l dầu. Hỏi 6 can như thế có bao nhiêu lít dầu ?

### 3 Đếm thêm 8 rồi điền số thích hợp vào ô trống :

8	16			40				72	
---	----	--	--	----	--	--	--	----	--