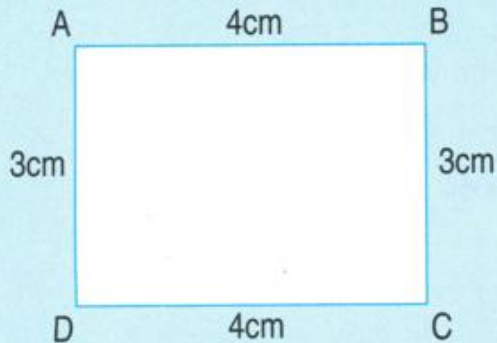


## CHU VI HÌNH CHỮ NHẬT



- Chu vi hình chữ nhật ABCD là :  
 $4 + 3 + 4 + 3 = 14$  (cm)  
hoặc  $(4 + 3) \times 2 = 14$  (cm).

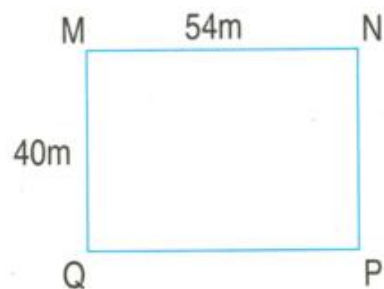
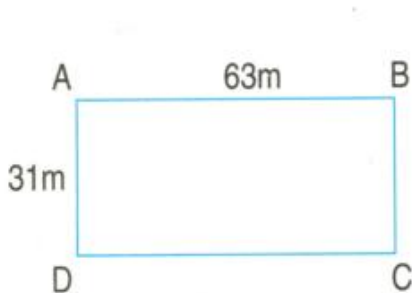
- Muốn tính chu vi hình chữ nhật ta lấy chiều dài cộng với chiều rộng (cùng đơn vị đo) rồi nhân với 2.

1 Tính chu vi hình chữ nhật có :

- a) Chiều dài 10cm, chiều rộng 5cm ;
- b) Chiều dài 2dm, chiều rộng 13cm.

2 Một mảnh đất hình chữ nhật có chiều dài 35m, chiều rộng 20m. Tính chu vi mảnh đất đó.

3 Khoanh vào chữ đặt trước câu trả lời đúng :



- A. Chu vi hình chữ nhật ABCD lớn hơn chu vi hình chữ nhật MNPQ.
- B. Chu vi hình chữ nhật ABCD bé hơn chu vi hình chữ nhật MNPQ.
- C. Chu vi hình chữ nhật ABCD bằng chu vi hình chữ nhật MNPQ.