



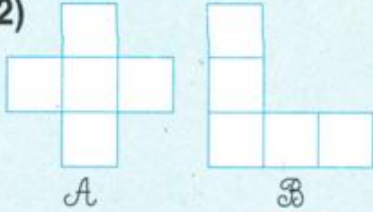
DIỆN TÍCH CỦA MỘT HÌNH

1)



• Hình chữ nhật nằm hoàn toàn trong hình tròn. Ta nói : Diện tích hình chữ nhật bé hơn diện tích hình tròn.

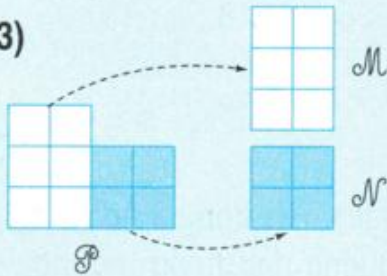
2)



• Hình A gồm 5 ô vuông như nhau. Hình B cũng gồm 5 ô vuông như thế.

Ta nói : Diện tích hình A bằng diện tích hình B .

3)

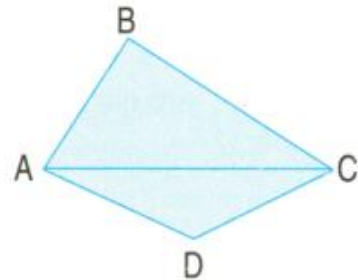


• Hình P gồm 10 ô vuông như nhau được tách thành hình M gồm 6 ô vuông và hình N gồm 4 ô vuông.

Ta nói : Diện tích hình P bằng tổng diện tích hình M và hình N .



1 Câu nào đúng, câu nào sai ?

- Diện tích hình tam giác ABC *lớn hơn* diện tích hình tứ giác ABCD.
- Diện tích hình tam giác ABC *bé hơn* diện tích hình tứ giác ABCD.
- Diện tích hình tam giác ABC *bằng* diện tích hình tứ giác ABCD.



2 a) Hình P gồm bao nhiêu ô vuông ?
Hình Q gồm bao nhiêu ô vuông ?

b) So sánh diện tích hình P với diện tích hình Q .



3 So sánh diện tích hình A với diện tích hình B .

