

# GÓC VUÔNG, GÓC KHÔNG VUÔNG

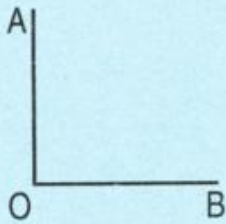


## 1) Làm quen với góc

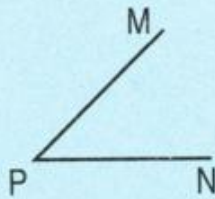


Hai kim đồng hồ ở mỗi hình trên tạo thành **góc**.

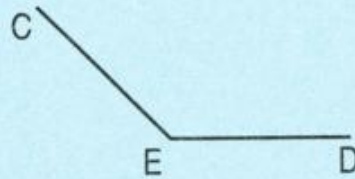
## 2) Góc vuông, góc không vuông



Góc vuông  
đỉnh O ; cạnh OA, OB.




Góc không vuông  
đỉnh P ; cạnh PM, PN.

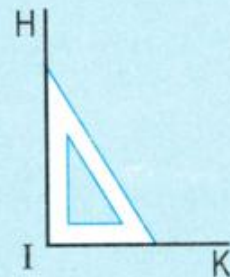


Góc không vuông  
đỉnh E ; cạnh EC, ED.

## 3) Ê ke



Cái ê ke



Dùng ê ke để kiểm tra góc vuông.

**1** a) Dùng ê ke để nhận biết góc vuông của hình bên rồi đánh dấu góc vuông (theo mẫu).



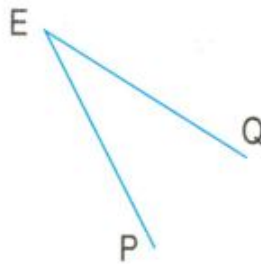
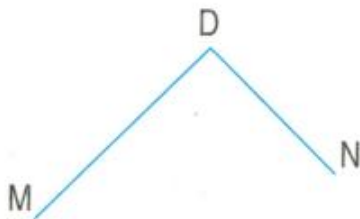
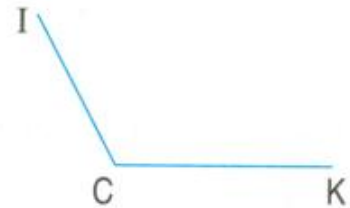
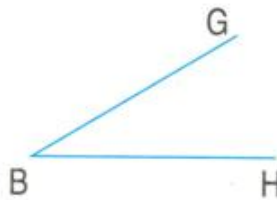

b) Dùng ê ke để vẽ :

- Góc vuông đỉnh O ; cạnh OA, OB (theo mẫu).
- Góc vuông đỉnh M ; cạnh MC, MD.

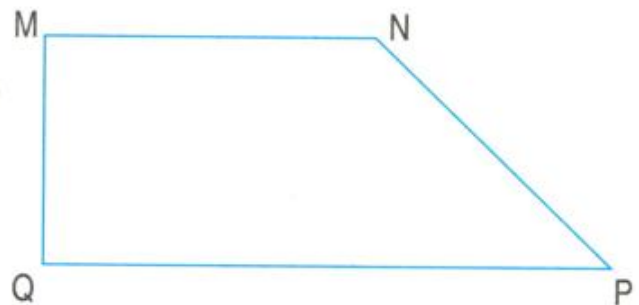


**2** Trong các hình dưới đây :

- a) Nêu tên đỉnh và cạnh các góc vuông ;
- b) Nêu tên đỉnh và cạnh các góc không vuông.



**3** Trong hình tứ giác MNPQ, góc nào là góc vuông ? Góc nào là góc không vuông ?



**4** Khoanh vào chữ đặt trước câu trả lời đúng :  
Số góc vuông trong hình bên là :

- |      |      |
|------|------|
| A. 1 | C. 3 |
| B. 2 | D. 4 |

