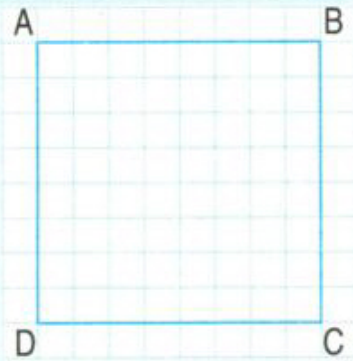


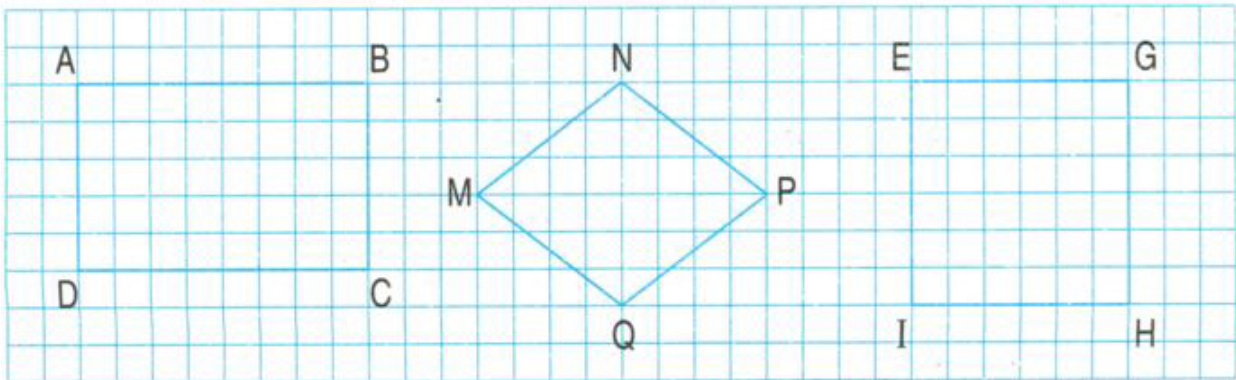
HÌNH VUÔNG



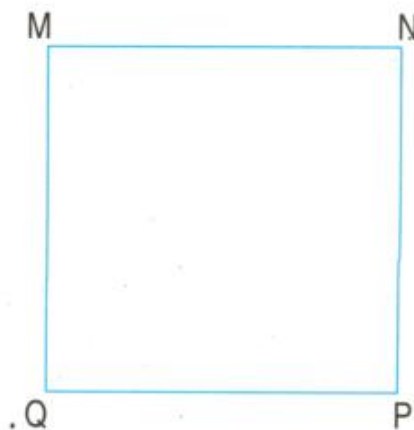

- Hình vuông ABCD có :
 - 4 góc đỉnh A, B, C, D đều là các góc vuông.
 - 4 cạnh có độ dài bằng nhau :
$$AB = BC = CD = DA.$$

• *Hình vuông có 4 góc vuông và 4 cạnh bằng nhau.*

1 Trong các hình dưới đây, hình nào là hình vuông ?

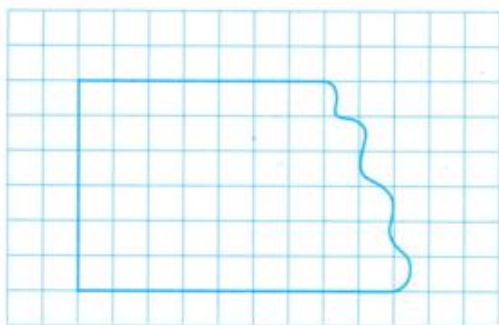


2 Đo rồi cho biết độ dài cạnh của mỗi hình vuông sau :

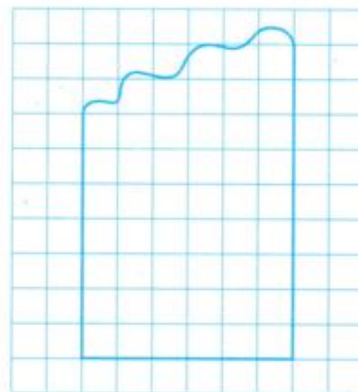


3 Kẻ thêm một đoạn thẳng để được hình vuông :

a)



b)



4 Vẽ theo mẫu :

