



LUYỆN TẬP

1 a) Tìm $\frac{1}{2}$ của : 12cm ; 18kg ; 10%.


b) Tìm $\frac{1}{6}$ của : 24m ; 30 giờ ; 54 ngày.

26


2 Vân làm được 30 bông hoa bằng giấy, Vân tặng bạn $\frac{1}{6}$ số bông hoa đó. Hỏi Vân tặng bạn bao nhiêu bông hoa ?

3 Có 28 học sinh đang tập bơi, $\frac{1}{4}$ số học sinh đó là học sinh lớp 3A. Hỏi lớp 3A có bao nhiêu học sinh đang tập bơi ?


4 Đã tô màu $\frac{1}{5}$ số ô vuông của hình nào ?




Hình 1



Hình 2



Hình 3



Hình 4