



LUYỆN TẬP CHUNG

- 1** a) Viết số liền trước của mỗi số sau : 8270 ; 35 461 ; 10 000.
b) Khoanh vào chữ đặt trước số lớn nhất trong các số :
42 963 ; 44 158 ; 43 669 ; 44 202.
- A. 42 963 C. 43 669
B. 44 158 D. 44 202

- 2** Đặt tính rồi tính :

$$8129 + 5936$$




$$4605 \times 4$$

$$49154 - 3728$$

$$2918 : 9$$

- 3** Một cửa hàng có 840 cái bút chì, đã bán được $\frac{1}{8}$ số bút chì đó. Hỏi cửa hàng còn lại bao nhiêu bút chì ?

- 4** Xem bảng dưới đây rồi trả lời các câu hỏi :

Tên người mua	 12 000 đồng	 2000 đồng	 6000 đồng	Số tiền phải trả
Nga	1	4	0	20 000 đồng
Mỹ	1	1	1	20 000 đồng
Đức	0	1	3	20 000 đồng

a) Mỗi cột của bảng trên cho biết những gì ?

b) Mỗi bạn Nga, Mỹ, Đức mua những loại đồ chơi nào và số lượng của mỗi loại là bao nhiêu ?

Mẫu : Bạn Nga mua 1 búp bê và 4 ô tô

c) Mỗi bạn phải trả bao nhiêu tiền ?

d) Em có thể mua những loại đồ chơi nào, với số lượng mỗi loại là bao nhiêu để phải trả 20 000 đồng ?