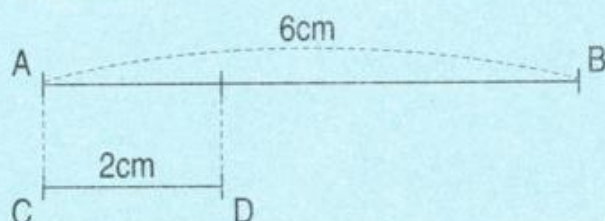


SO SÁNH SỐ LỚN GẤP MẤY LẦN SỐ BÉ



Bài toán : Đoạn thẳng AB dài 6cm, đoạn thẳng CD dài 2cm. Hỏi đoạn thẳng AB dài gấp mấy lần đoạn thẳng CD ?

Tóm tắt




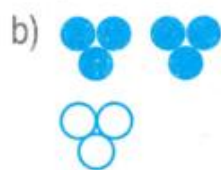
Bài giải

Độ dài đoạn thẳng AB gấp độ dài đoạn thẳng CD một số lần là :

$$6 : 2 = 3 \text{ (lần)}$$

Đáp số : 3 lần.

- 1** Trả lời câu hỏi : Trong mỗi hình dưới đây, số hình tròn màu xanh gấp mấy lần số hình tròn màu trắng ?



- 2** Trong vườn có 5 cây cau và 20 cây cam. Hỏi số cây cam gấp mấy lần số cây cau ?

- 3** Một con lợn cân nặng 42kg, một con ngỗng cân nặng 6kg. Hỏi con lợn cân nặng gấp mấy lần con ngỗng ?

- 4** Tính chu vi :

a) Hình vuông MNPQ ;

b) Hình tứ giác ABCD.

