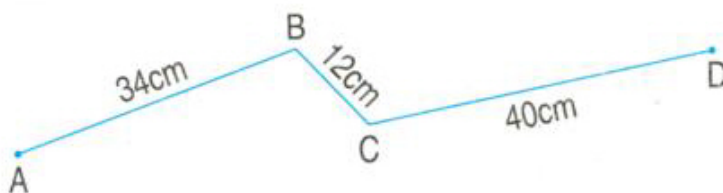


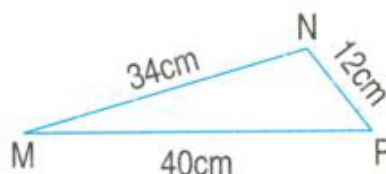
ÔN TẬP VỀ HÌNH HỌC



- 1 a) Tính độ dài đường gấp khúc ABCD :



- b) Tính chu vi hình tam giác MNP :

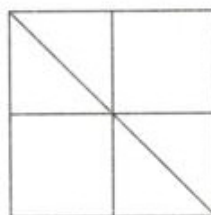


- 2 Đo độ dài mỗi cạnh rồi tính chu vi hình chữ nhật ABCD.



- 3 Trong hình bên :

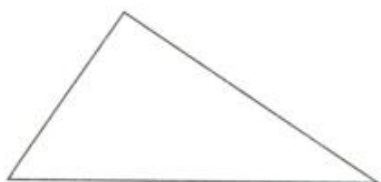
- Có bao nhiêu hình vuông ?
- Có bao nhiêu hình tam giác ?



11

- 4 Kẻ thêm một đoạn thẳng vào mỗi hình sau để được :

a) Ba hình tam giác.



b) Hai hình tứ giác.

