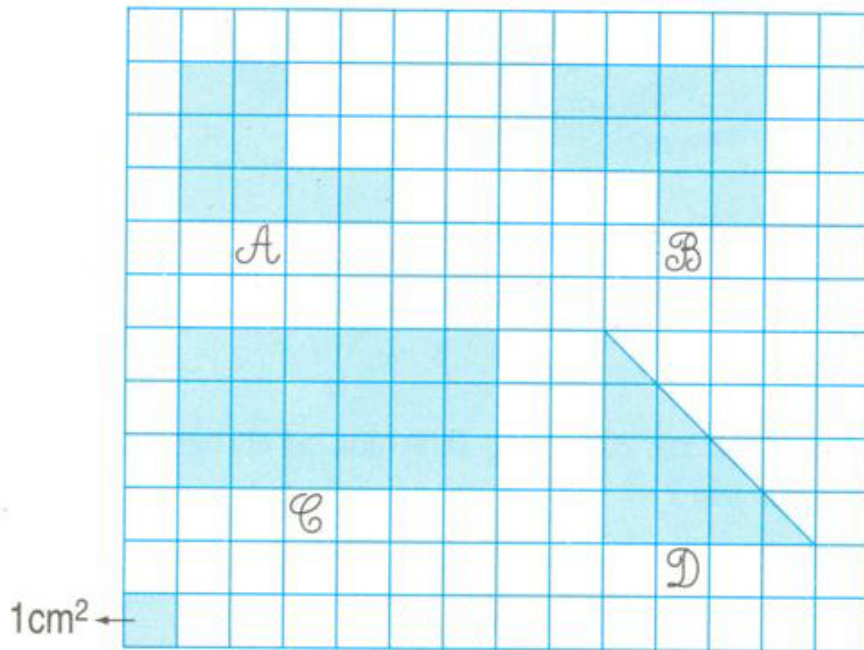


ÔN TẬP VỀ HÌNH HỌC (tiếp theo)



- 1 Mỗi hình dưới đây có diện tích là bao nhiêu xăng-ti-mét vuông ?

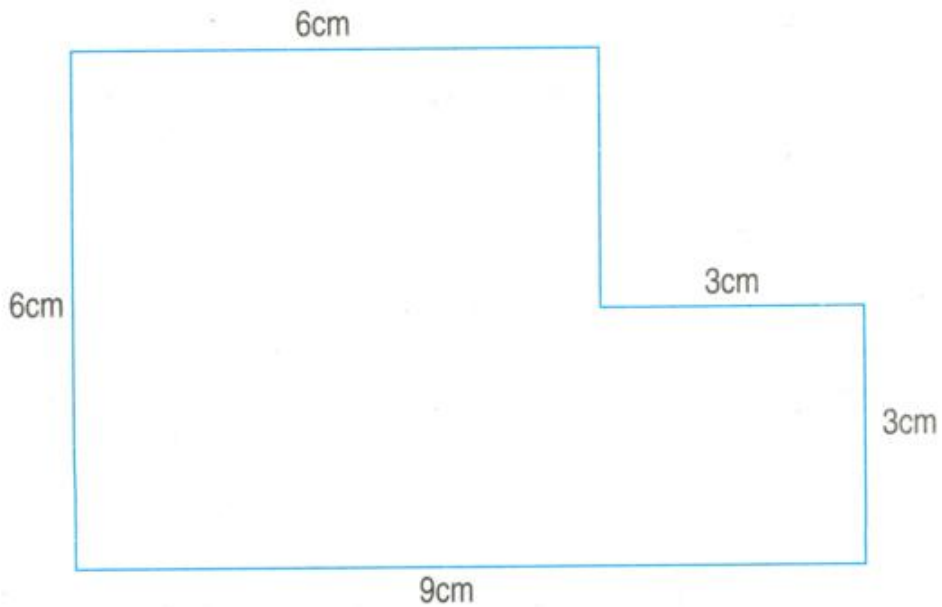


2 Hình chữ nhật có chiều dài 12cm, chiều rộng 6cm. Hình vuông có cạnh là 9cm.

a) Tính chu vi mỗi hình. So sánh chu vi hai hình đó.

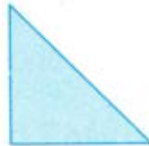
b) Tính diện tích mỗi hình. So sánh diện tích hai hình đó.

3 Em tìm cách tính diện tích hình \mathcal{H} có kích thước như sau :



Hình \mathcal{H}

4 Cho 8 hình tam giác, mỗi hình như hình sau :



Hãy xếp thành hình dưới đây :

