



Hai mươi nghìn đồng



Năm mươi nghìn đồng



Một trăm nghìn đồng

4 Viết số thích hợp vào ô trống (theo mẫu) :

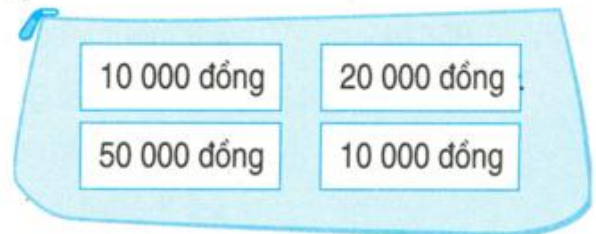
Tổng số tiền	Số các tờ giấy bạc		
	10 000 đồng	20 000 đồng	50 000 đồng
80 000 đồng	1	1	1
90 000 đồng			
100 000 đồng			
70 000 đồng			

1 Mỗi ví đựng bao nhiêu tiền ?

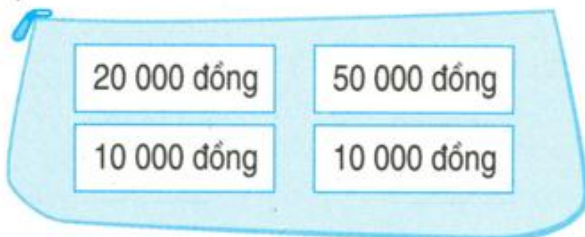
a)



b)



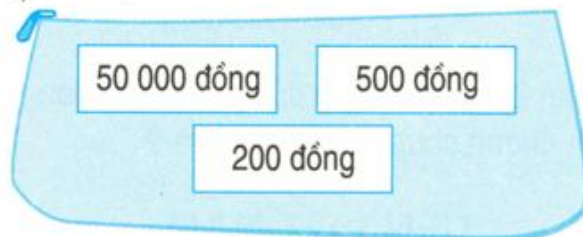
c)



d)



e)



2 Mẹ mua cho Lan một chiếc cặp sách giá 15 000 đồng và một bộ quần áo mùa hè giá 25 000 đồng. Mẹ đưa cô bán hàng 50 000 đồng. Hỏi cô bán hàng phải trả lại mẹ bao nhiêu tiền ?

3 Mỗi cuốn vở giá 1200 đồng. Viết số tiền thích hợp vào ô trống trong bảng :

Số cuốn vở	1 cuốn	2 cuốn	3 cuốn	4 cuốn
Thành tiền	1200 đồng			