



TIỀN VIỆT NAM



Hai nghìn đồng




Năm nghìn đồng




Mười nghìn đồng

1 Trong mỗi chú lợn có bao nhiêu tiền ?

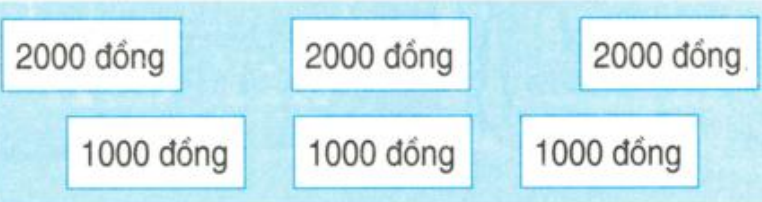


2 Phải lấy các tờ giấy bạc nào để được số tiền ở bên phải ?

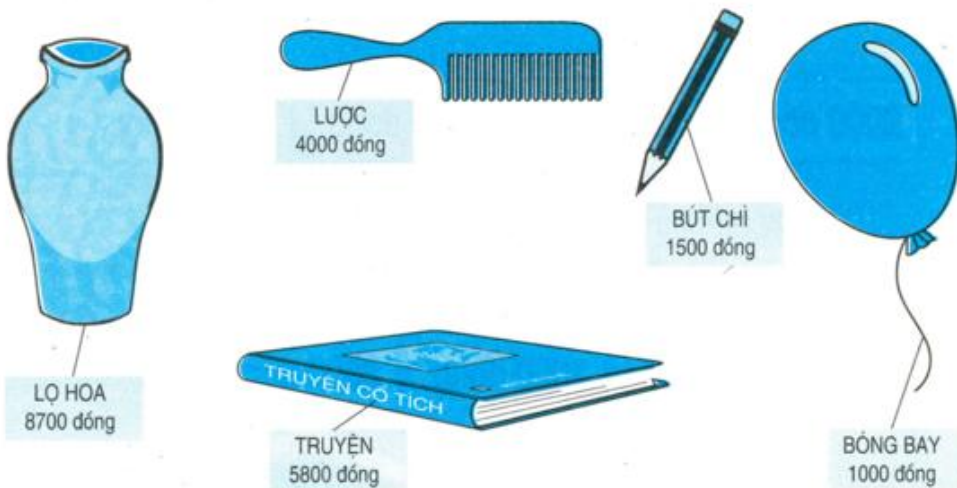
a)  — 2000 đồng

b)  — 10 000 đồng

c)  — 10 000 đồng

d)  — 5000 đồng

3 Xem tranh rồi trả lời các câu hỏi sau :



- a) Trong các đồ vật trên, đồ vật nào có giá tiền ít nhất ? Đồ vật nào có giá tiền nhiều nhất ?
- b) Mua một quả bóng bay và một chiếc bút chì thì hết bao nhiêu tiền ?
- c) Giá tiền một lọ hoa nhiều hơn giá tiền một cái lược là bao nhiêu ?