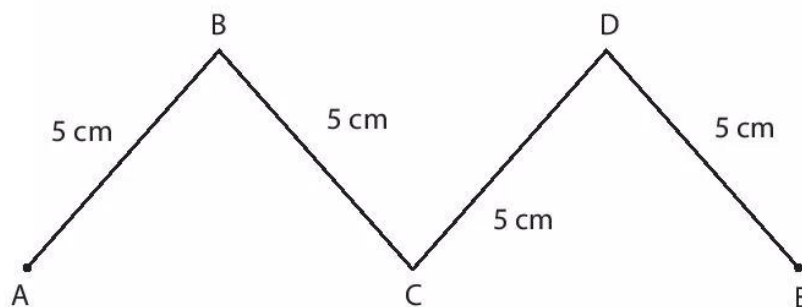


2. Một số gợi ý về hình thức và phương pháp kiểm tra, đánh giá năng lực trong môn Toán

KIỂM TRA


I. Khoanh vào chữ cái (A, B, C) đặt trước ý trả lời đúng (3 điểm).

- Số liền sau của 789 là:
A. 787 B. 800 C. 790
- $675 < \square$ Số thích hợp để điền vào ô trống là:
A. 756 B. 657 C. 567
- $5 + 2 \square 5 \times 2$. Dấu thích hợp để điền vào ô trống là:
A. Dấu lớn hơn B. Dấu bé hơn C. Dấu bằng
- Đoạn đường từ Thành phố Hồ Chí Minh đến Cần Thơ dài 174.....
Đơn vị thích hợp điền vào chỗ chấm là:
A. dm B. m C. km
- Ngày 15 tháng 5 là chủ nhật, vậy sinh nhật Bác Hồ ngày 19 tháng 5 là thứ mấy?
A. thứ Ba B. thứ Tư C. thứ Năm
- Độ dài đường gấp khúc ABCDE là :
A. 20 dm
B. 20 cm
C. 20




II. Thực hiện các bài tập sau. (7 điểm)**Câu 1. Đặt tính rồi tính.**

$537 + 371$



$786 - 508$

**Câu 2. Tính.**

$17 + 5 - 18 = \dots\dots\dots$

Câu 3. Mỗi hộp che số nào? Điền số thích hợp vào dấu chấm.

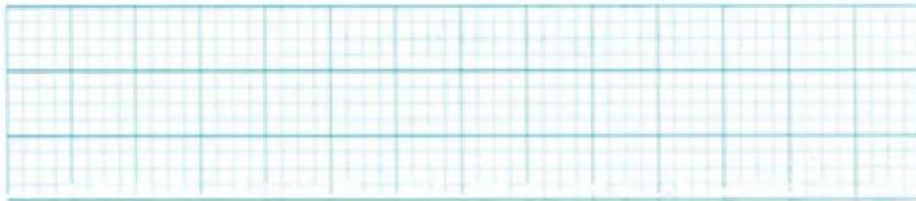
a) $2 \times$  $9 = 20$

b)  $\times 9 = 45$

 che số:

 che số:
Câu 4. Chia đều 45 kg gạo vào 5 bao. Hỏi mỗi bao có bao nhiêu ki-lô-gam gạo?

Bài giải

**Câu 5 : Vẽ kim phút vào đồng hồ chỉ giờ phù hợp.**

19 giờ 30, em ngồi vào bàn học.