

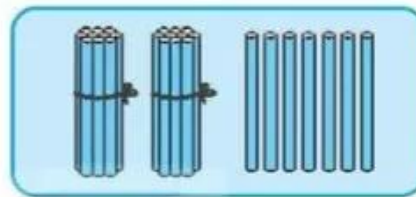
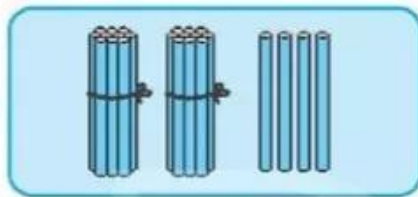
# BÀI 22

## SO SÁNH SỐ CÓ HAI CHỮ SỐ

### Tiết 1

1 Viết (theo mẫu).

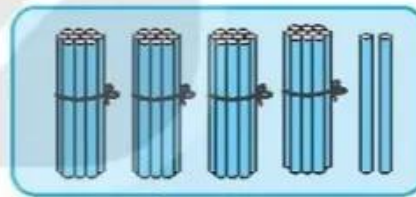
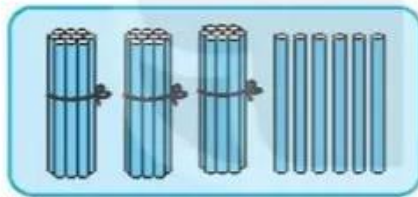
Mẫu:



$24 < 27$

$27 > 24$

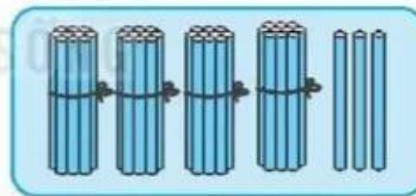
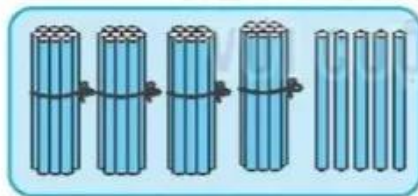
a)



$\square < \square$

$\square > \square$

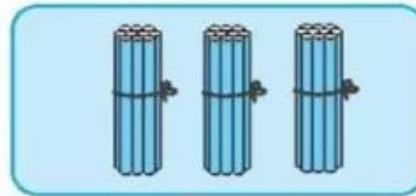
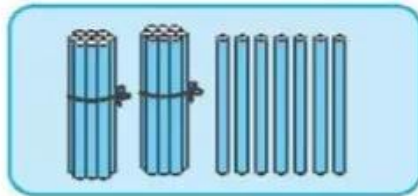
b)



$\square < \square$

$\square > \square$

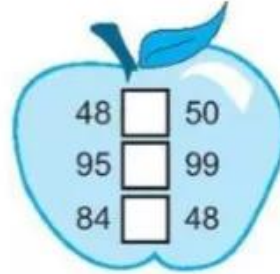

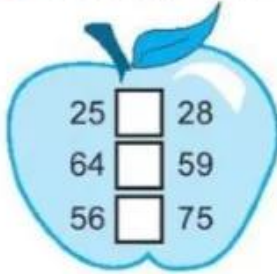
c)



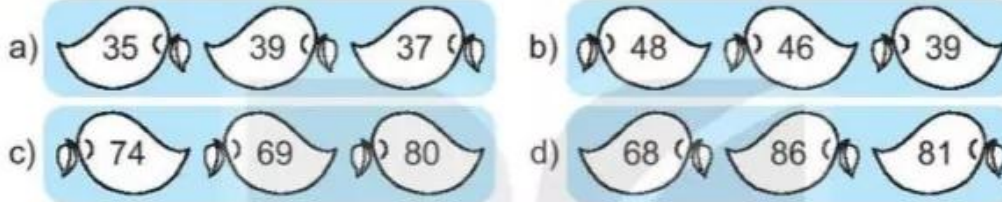
$\square < \square$

$\square > \square$

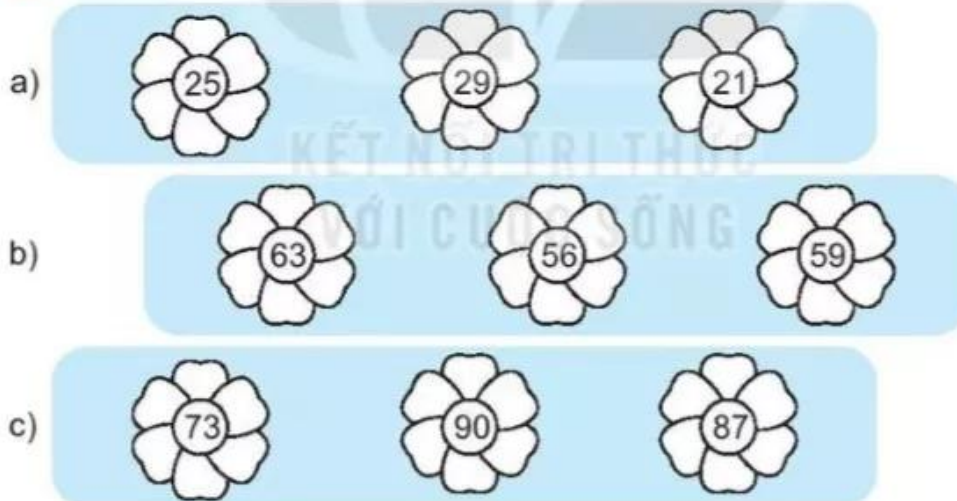
2 ✎ Viết dấu >; <; = thích hợp vào ô trống.



3 ✎ Tô màu quả xoài có số lớn nhất.



4 ✎ Tô màu bông hoa có số bé nhất.



5 ✎ Mai trồng được 16 cây hoa. Việt trồng được 14 cây hoa. Nam trồng được 17 cây hoa. Viết tên bạn thích hợp vào chỗ chấm.

– Bạn ..... trồng được nhiều cây hoa nhất.

– Bạn ..... trồng được ít cây hoa nhất.

## Tiết 2

1 a) Tô màu vào tấm thẻ có số lớn hơn trong mỗi cặp số.



b) Tô màu vào tấm thẻ có số bé hơn trong mỗi cặp số.



2 Viết các số theo thứ tự từ bé đến lớn.

a) 29, 24, 27

b) 69, 78, 64

c) 55, 61, 67, 59

d) 85, 58, 39, 90

3 Viết các số theo thứ tự từ lớn đến bé.


a) 38, 31, 35

b) 48, 29, 42

c) 73, 58, 79, 56

d) 96, 45, 59, 88

4 ✎ Viết dấu >; <; = thích hợp vào ô trống.

XUẤT PHÁT 	9 <input type="text"/> 12	18 <input type="text"/> 14	37 <input type="text"/> 40	56 <input type="text"/> 49	66 <input type="text"/> 68
51 <input type="text"/> 36	25 <input type="text"/> 30	89 <input type="text"/> 91	60 <input type="text"/> 57	96 <input type="text"/> 96	83 <input type="text"/> 38
69 <input type="text"/> 79	30 <input type="text"/> 30	29 <input type="text"/> 31	38 <input type="text"/> 37	26 <input type="text"/> 28	56 <input type="text"/> 65
					ĐÍCH

5 ✎ Đố vui.

Cho hai tấm thẻ dưới đây:



Viết số thích hợp vào chỗ chấm.

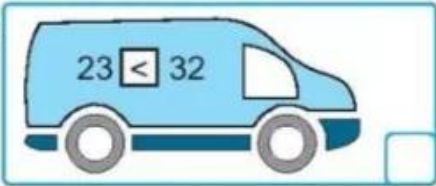
Ghép hai tấm thẻ trên được số lớn nhất là: .....

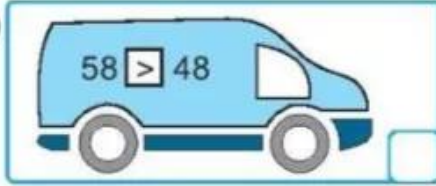





### Tiết 3

1) Đúng ghi Đ, sai ghi S.

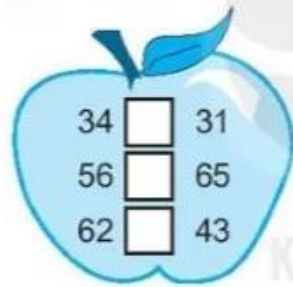
a) 

b) 

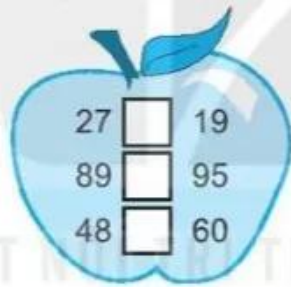
c) 

d) 

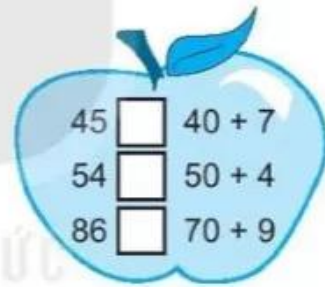
2) Viết dấu > ; < ; = thích hợp vào ô trống.



34	<input type="text"/>	31
56	<input type="text"/>	65
62	<input type="text"/>	43



27	<input type="text"/>	19
89	<input type="text"/>	95
48	<input type="text"/>	60



45	<input type="text"/>	$40 + 7$
54	<input type="text"/>	$50 + 4$
86	<input type="text"/>	$70 + 9$

3) Tô màu xanh vào gấu bông có số bé nhất, màu đỏ vào gấu bông có số lớn nhất.

a) 

b) 

4 ✎ Mai có 32 bông hoa. Việt có 29 bông hoa. Nam có 35 bông hoa.

Viết tên bạn thích hợp vào chỗ chấm.

- a) Mai có nhiều hoa hơn .....
- b) Mai có ít hoa hơn .....
- c) ..... có nhiều hoa nhất.
- d) ..... có ít hoa nhất.



5 ✎ Viết các số thích hợp vào chỗ chấm.

Cho ba tấm thẻ dưới đây:



Ghép hai trong ba tấm thẻ trên được các số:

.....

