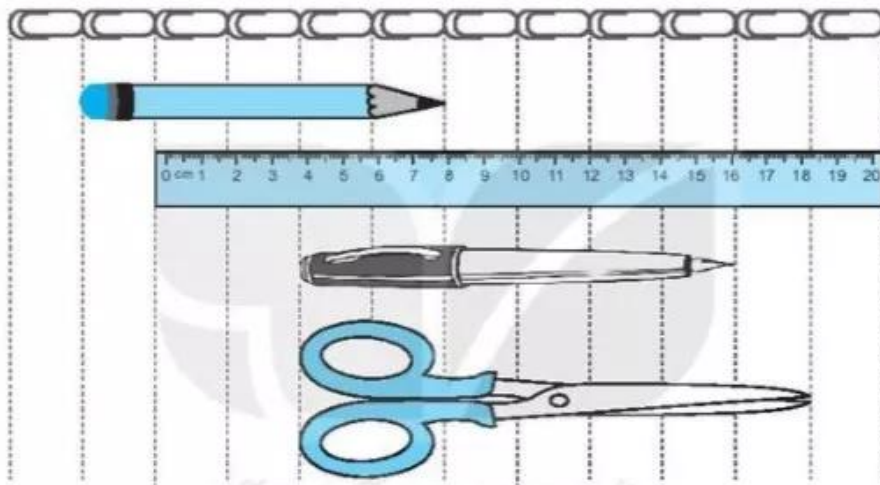


# BÀI 26

## ĐƠN VỊ ĐO ĐỘ DÀI

### Tiết 1

1 Quan sát tranh rồi trả lời.



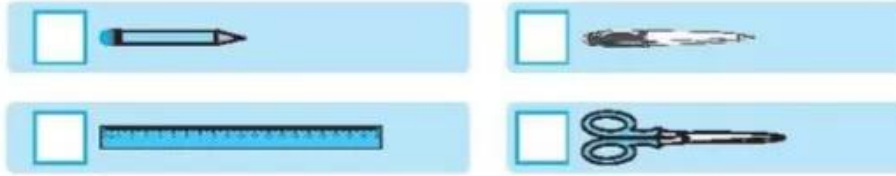
a) Viết số thích hợp vào ô trống (theo mẫu).

	<input type="text" value="5"/>			<input type="text"/>	
	<input type="text"/>			<input type="text"/>	

b) Đánh dấu ✓ vào ô trống trước đồ vật dài nhất.

<input type="checkbox"/>		<input type="checkbox"/>	
<input type="checkbox"/>		<input type="checkbox"/>	

c) Đánh dấu ✓ vào ô trống trước đồ vật ngắn nhất.



d) Viết tên đồ vật vào chỗ chấm cho thích hợp.


– Đồ vật dài hơn kéo là.....

– Đồ vật ngắn hơn bút mực là .....


2 Quan sát tranh và trả lời.




a) Viết số thích hợp vào ô trống.



b) Đánh dấu ✓ vào ô trống trước con vật cao nhất.



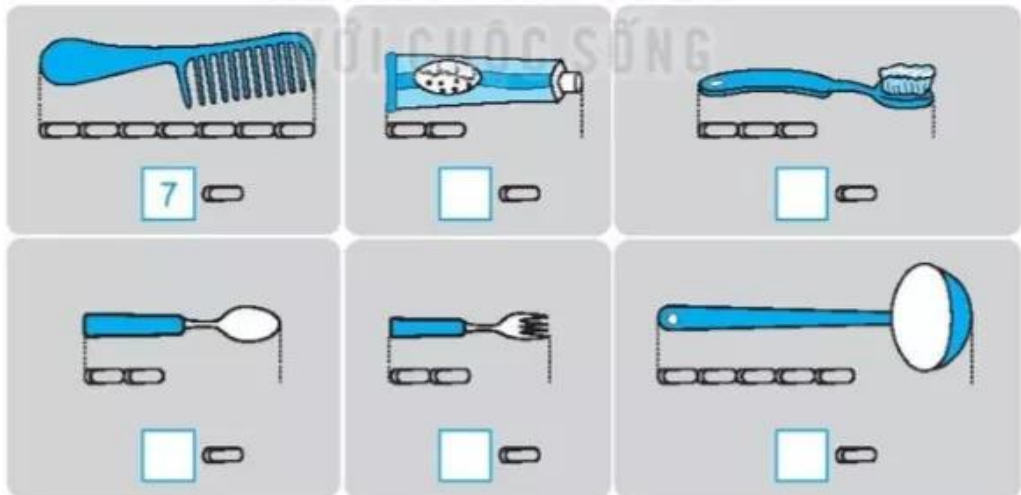
c) Đánh dấu ✓ vào ô trống trước con vật thấp nhất.



d) Đánh dấu ✓ vào các ô trống trước các con vật cao bằng nhau.

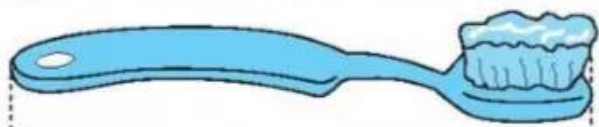


3 Quan sát, ước lượng rồi viết số thích hợp vào ô trống (theo mẫu).



## Tiết 2

1 Đo rồi nối đồ vật với số đo độ dài thích hợp.



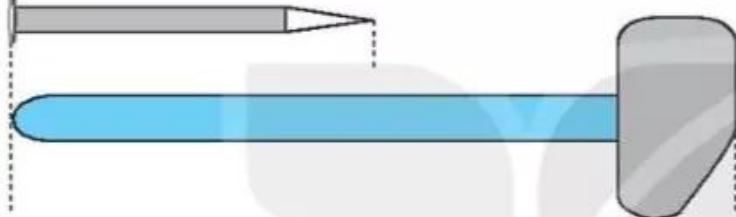
5 cm



6 cm


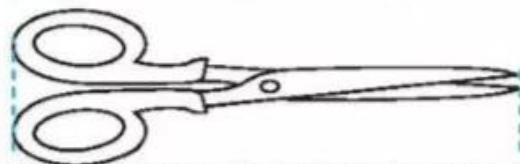



10 cm

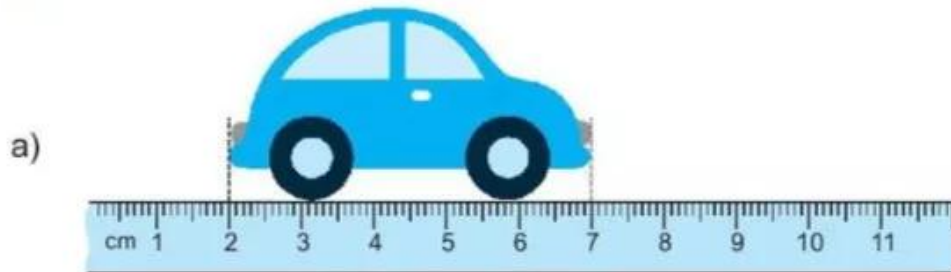


8 cm

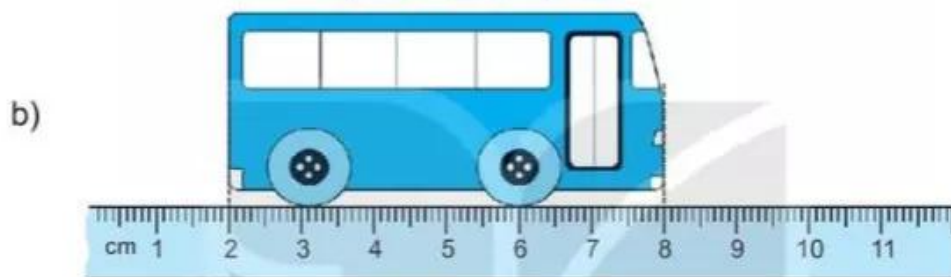
2 Tô màu vào những đồ vật có độ dài bằng 7 cm.



3 ✎ Viết số thích hợp vào ô trống (theo mẫu).



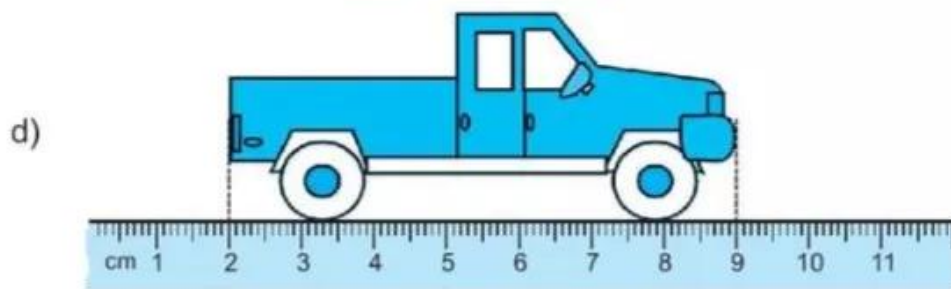
$$\boxed{7} - \boxed{2} = \boxed{5} \text{ (cm)}$$



$$\boxed{\phantom{0}} - \boxed{\phantom{0}} = \boxed{\phantom{0}} \text{ (cm)}$$



$$\boxed{\phantom{0}} - \boxed{\phantom{0}} = \boxed{\phantom{0}} \text{ (cm)}$$



$$\boxed{\phantom{0}} - \boxed{\phantom{0}} = \boxed{\phantom{0}} \text{ (cm)}$$