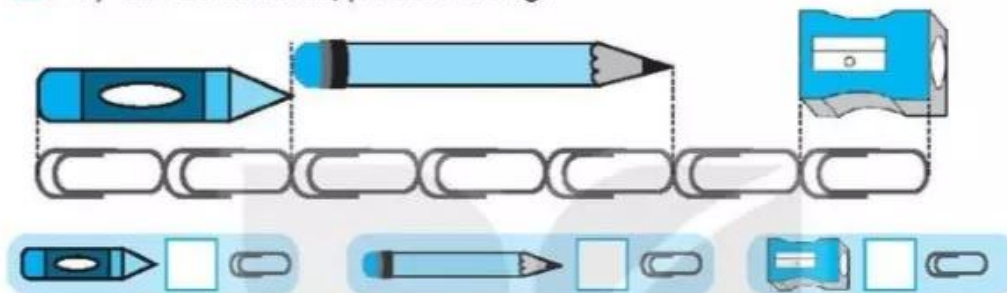


BÀI 27

THỰC HÀNH ƯỚC LƯỢNG VÀ ĐO ĐỘ DÀI

Tiết 1

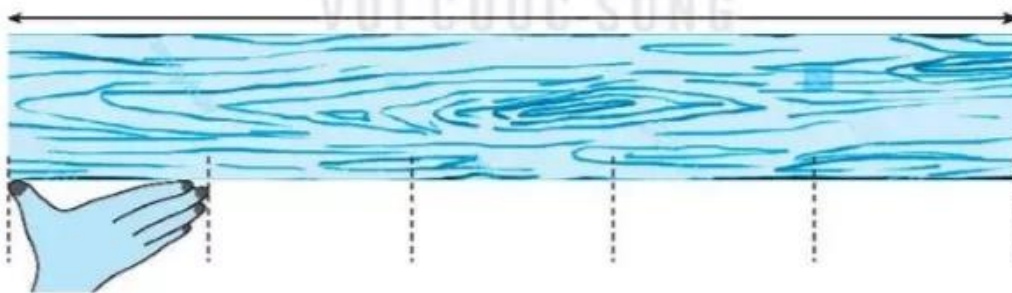
1 a) Viết số thích hợp vào ô trống.



b) Viết tiếp vào chỗ chấm cho thích hợp.

Trong các đồ vật ở câu a, đồ vật dài nhất là

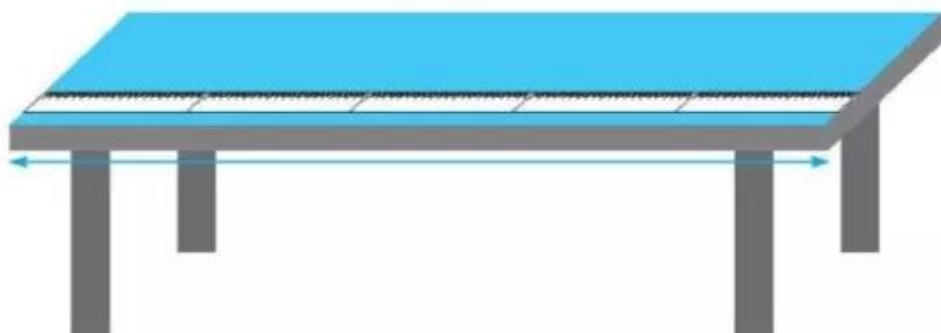
2 Thực hành đo độ dài bằng gang tay của em rồi viết số thích hợp vào chỗ chấm (theo mẫu).



Mẫu: Tấm gỗ dài 5 gang tay.

- Cặp sách của em dài khoảng gang tay.
- Bàn học của em dài khoảng gang tay.

3 ✎ Thực hành đo độ dài bằng thước kẻ rồi viết số thích hợp vào chỗ chấm (theo mẫu).



Mẫu: Bàn dài bằng 5 cái thước kẻ.

- Bàn học của em dài khoảng cái thước kẻ.
- Bảng lớp em dài khoảng cái thước kẻ.

4 ✎ Thực hành đo độ dài bằng bước chân của em rồi viết số thích hợp vào chỗ chấm (theo mẫu).



Mẫu: Bức tường dài khoảng 9 bước chân.

Bức tường phòng học lớp em dài khoảng bước chân.

Tiết 2

1 Khoanh vào chữ đặt trước câu trả lời thích hợp.

a) Hộp bút của em dài khoảng:

A. 20 cm

B. 1 bước chân của em

b) Quyển sách của em dài khoảng:

A. 5 cm

B. 2 gang tay của em

c) Đồ vật nào dưới đây dài khoảng 4 gang tay của em?

A. Quyển vở

B. Bút chì

C. Cặp sách

2 Nói đồ vật với số đo độ dài thích hợp trong thực tế.



10 bước chân



10 cm

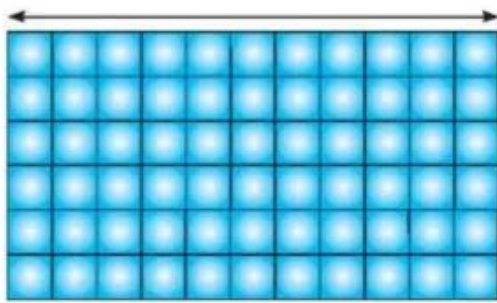


10 gang tay

3 ✎ Viết tiếp vào chỗ chấm cho thích hợp.

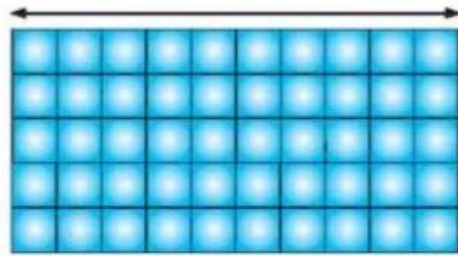
Nền nhà Nam và nền nhà Việt cùng được lát bởi một loại gạch men.

a) Nền nhà Nam



Nền nhà Nam dài
viên gạch men.

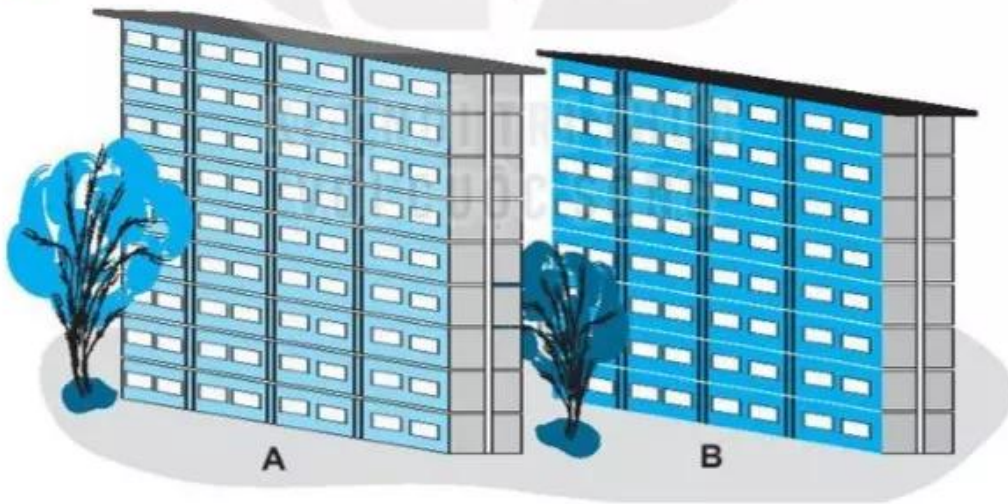
b) Nền nhà Việt



Nền nhà Việt dài
viên gạch men.

c) Nền nhà dài hơn nền nhà

4 ✎ Viết tiếp vào chỗ chấm cho thích hợp.



Các tầng của hai toà nhà trên cao bằng nhau.

a) Toà nhà A cao tầng.

b) Toà nhà B cao tầng.

c) Toà nhà A toà nhà B.