

# BÀI 32

# PHÉP TRỪ SỐ CÓ HAI CHỮ SỐ CHO SỐ CÓ HAI CHỮ SỐ

## Tiết 1

1 Tính.

$$\begin{array}{r} 64 \\ - 22 \\ \hline \dots \end{array}$$

$$\begin{array}{r} 78 \\ - 41 \\ \hline \dots \end{array}$$

$$\begin{array}{r} 89 \\ - 52 \\ \hline \dots \end{array}$$

$$\begin{array}{r} 37 \\ - 20 \\ \hline \dots \end{array}$$

$$\begin{array}{r} 90 \\ - 50 \\ \hline \dots \end{array}$$

2 Đặt tính rồi tính.

$$76 - 31$$

.....  
.....  
.....

$$85 - 43$$

.....  
.....  
.....


$$48 - 28$$

.....  
.....  
.....

$$93 - 60$$

.....  
.....  
.....

3 Khoanh vào chữ đặt trước câu trả lời đúng.



Bạn nào cầm bảng ghi phép tính có kết quả bé nhất?

- A. Nam      B. Mai      C. Việt      D. Rô-bốt

4 Viết số thích hợp vào ô trống.

Trên một toa tàu có 28 khách, tới nhà ga có 12 khách xuống. Hỏi lúc này còn bao nhiêu khách trên toa tàu?

	-		=	
--	---	--	---	--

Còn  khách trên toa tàu.



## Tiết 2

1 a) Tính nhẩm.

$70 + 20 = \dots\dots\dots$

$90 - 70 = \dots\dots\dots$

$90 - 20 = \dots\dots\dots$

$40 + 30 = \dots\dots\dots$

$70 - 40 = \dots\dots\dots$

$70 - 30 = \dots\dots\dots$

b) Đặt tính rồi tính.

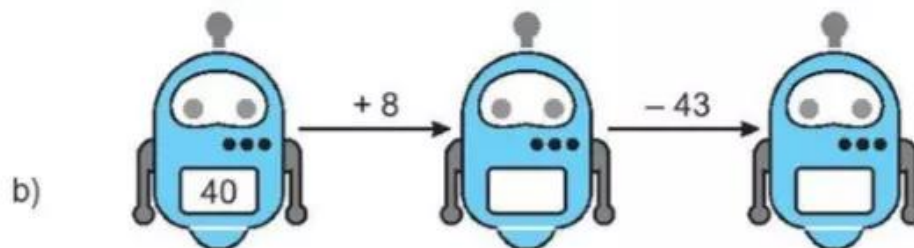
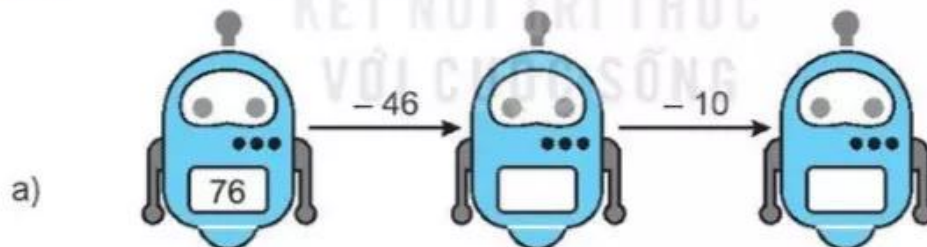
$67 - 37$
.....
.....
.....

$88 - 28$
.....
.....
.....

$57 - 52$
.....
.....
.....

$64 - 61$
.....
.....
.....

2 Viết số thích hợp vào ô trống.



3 ✎ Viết chữ số thích hợp vào ô trống.

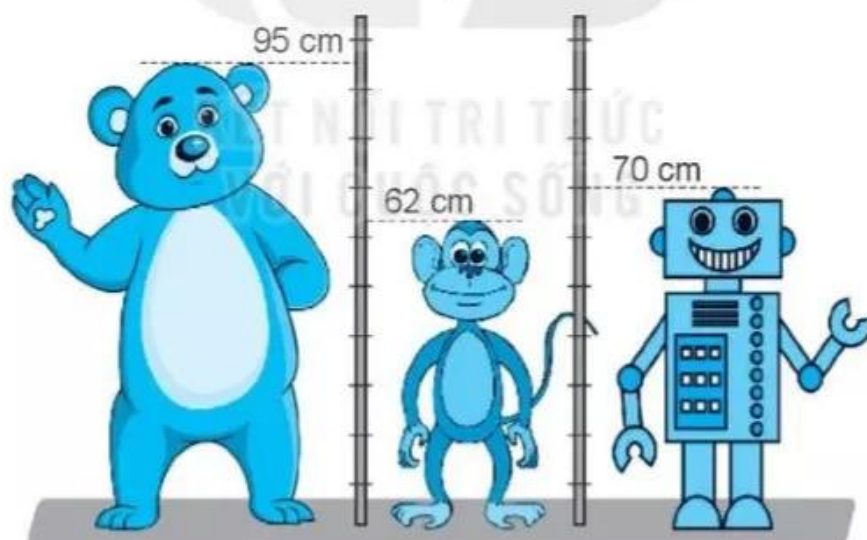
$$\begin{array}{r} 4 \square \\ - 15 \\ \hline 34 \end{array}$$

$$\begin{array}{r} \square 5 \\ - 4 \square \\ \hline 52 \end{array}$$

$$\begin{array}{r} 6 \square \\ - 44 \\ \hline \square 5 \end{array}$$

$$\begin{array}{r} 88 \\ - \square \square \\ \hline 31 \end{array}$$

4 ✎ Khoanh vào chữ đặt trước câu trả lời đúng.



Bạn nào cao nhất?

A. Khi

B. Gấu

C. Rô-bốt

### Tiết 3

1 Đặt tính rồi tính.

a)

$32 + 15$ ..... ..... .....	$47 - 15$ ..... ..... .....	$47 - 32$ ..... ..... .....	$35 + 12$ ..... ..... .....
--------------------------------------	--------------------------------------	--------------------------------------	--------------------------------------

b)

$43 + 26$ ..... ..... .....	$69 - 43$ ..... ..... .....	$69 - 26$ ..... ..... .....	$46 + 23$ ..... ..... .....
--------------------------------------	--------------------------------------	--------------------------------------	--------------------------------------

2 Tô màu đỏ vào bông hoa ghi phép tính có kết quả lớn nhất, màu xanh vào bông hoa ghi phép tính có kết quả bé nhất.



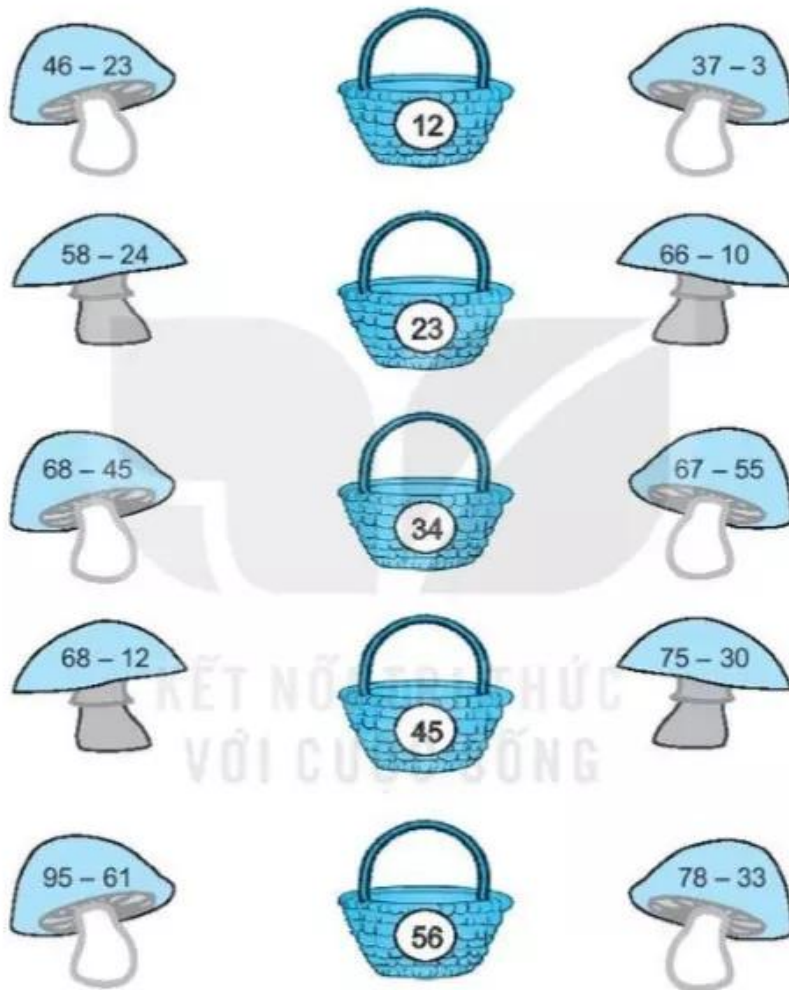
3 Viết phép tính thích hợp.

Một đồng gạch có 95 viên. Bác thợ xây đã lấy đi một số viên gạch để xây tường. Tính ra còn lại 45 viên. Hỏi bác thợ đó đã lấy đi bao nhiêu viên gạch để xây tường?

--	--	--	--	--

4 Nấm được cho vào giỏ khi kết quả phép tính ở nấm là số ghi trên giỏ đó.

a) Nối mỗi cây nấm với giỏ thích hợp.



b) Đúng ghi Đ, sai ghi S.

Những giỏ có hai cây nấm là giỏ ghi số:

• 23; 34; 56

• 23; 45; 56