

BÀI 33

LUYỆN TẬP CHUNG

Tiết 1

1 Tính.

$$\begin{array}{r} 53 \\ + 4 \\ \hline \end{array}$$

.....

$$\begin{array}{r} 30 \\ + 31 \\ \hline \end{array}$$

.....

$$\begin{array}{r} 67 \\ - 7 \\ \hline \end{array}$$

.....

$$\begin{array}{r} 85 \\ - 13 \\ \hline \end{array}$$

.....

2 Đặt tính rồi tính.

$$50 + 7$$

.....
.....
.....

$$33 + 45$$

.....
.....
.....

$$48 - 2$$

.....
.....
.....

$$62 - 12$$

.....
.....
.....



3 ✎ Viết phép tính thích hợp.


Trời bão, có 15 chú sóc trú mưa trong hốc cây. Lúc sau có thêm 31 chú sóc đến trú mưa cùng. Hỏi có tất cả bao nhiêu chú sóc trong hốc cây?

--	--	--	--	--



4 ✎ Viết phép tính thích hợp.

Biết chú cừu đen đang đứng trên tảng đá nhỏ. Tảng đá nhỏ nằm trên tảng đá to. Tảng đá to cao 34 gang tay. Tảng đá nhỏ cao 25 gang tay (hình vẽ). Hỏi cừu đen đứng ở vị trí cách mặt đất bao nhiêu gang tay?



Tiết 2

1 Đặt tính rồi tính.

$40 + 5$

.....
.....
.....

$16 + 52$

.....
.....
.....

$79 - 6$

.....
.....
.....

$48 - 26$

.....
.....
.....

2 Nối phép tính với kết quả của phép tính đó.

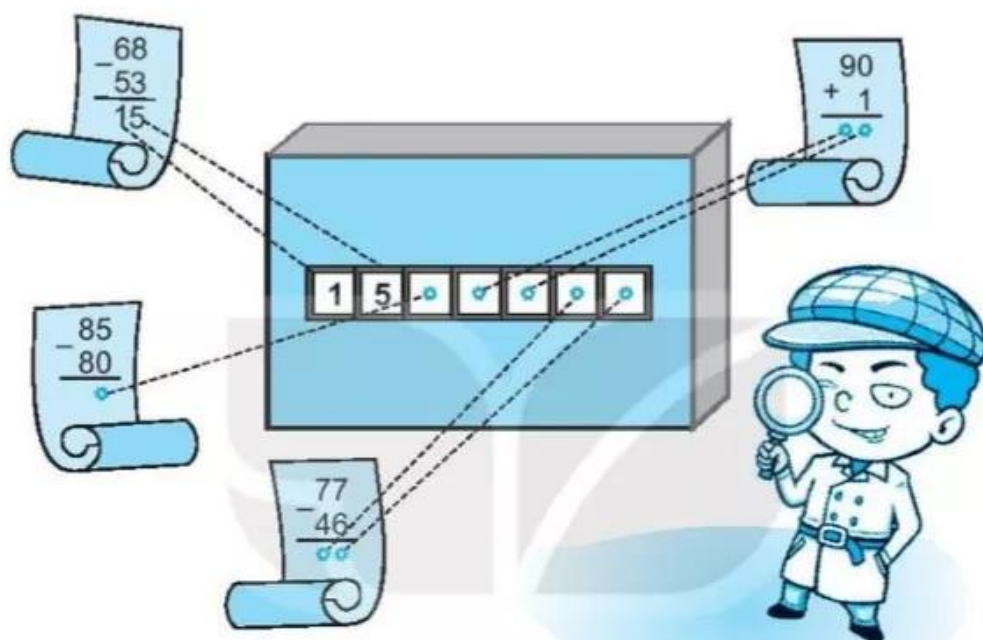


3 Viết số thích hợp vào ô trống.

a) $69 \xrightarrow{-9} \bigcirc \xrightarrow{+23} \triangle$

b) $75 \xrightarrow{-15} \triangle \xrightarrow{+20} \bigcirc$

4) Mật mã mở cửa là kết quả của các phép tính đã cho. Em hãy thực hiện phép tính, điền kết quả vào ô trống (theo mẫu) để giúp thám tử Tí mở cửa nhé.



5) Bác Lan mang trứng gà ra bán ở chợ. Buổi sáng, bác bán được 45 quả trứng. Buổi chiều, bác bán được 79 quả trứng. Hỏi buổi chiều, bác Lan bán được nhiều hơn buổi sáng bao nhiêu quả trứng?



a) Viết phép tính thích hợp.

--	--	--	--	--

b) Viết số thích hợp vào chỗ chấm.

Buổi chiều, bác Lan bán được nhiều hơn buổi sáng quả trứng.

Tiết 3

1 Đặt tính rồi tính.

$$50 + 23$$

.....
.....
.....

$$43 + 2$$

.....
.....
.....

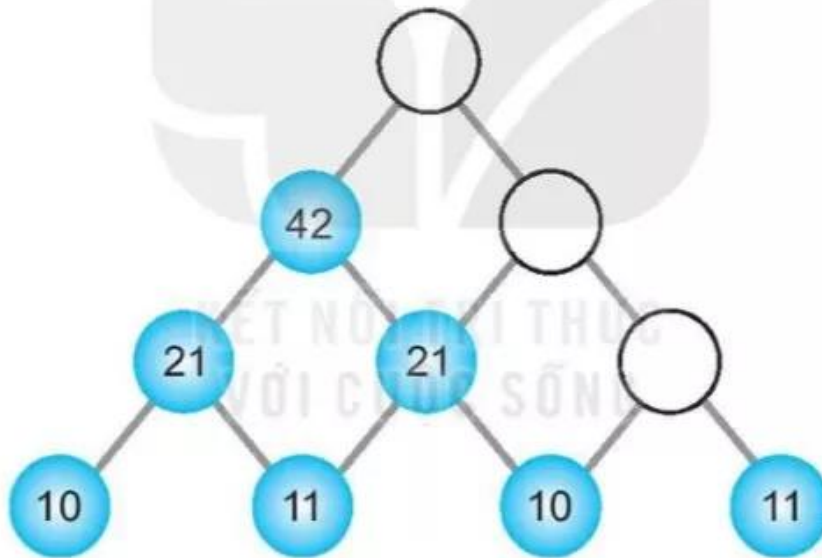
$$67 - 10$$

.....
.....
.....

$$68 - 31$$

.....
.....
.....

2 Viết số thích hợp vào ô trống.



3 Ở phiên chợ Ba Tư đang có 44 con lạc đà. Phú ông đi vào chợ dẫn theo đàn lạc đà có 43 con. Hỏi trong chợ lúc này có bao nhiêu con lạc đà?

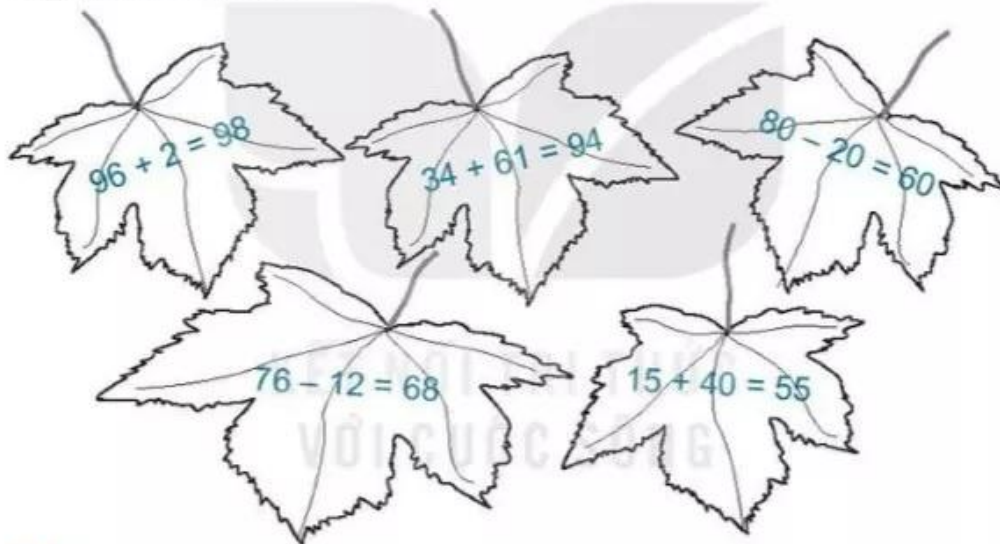
a) Viết phép tính thích hợp.

--	--	--	--	--

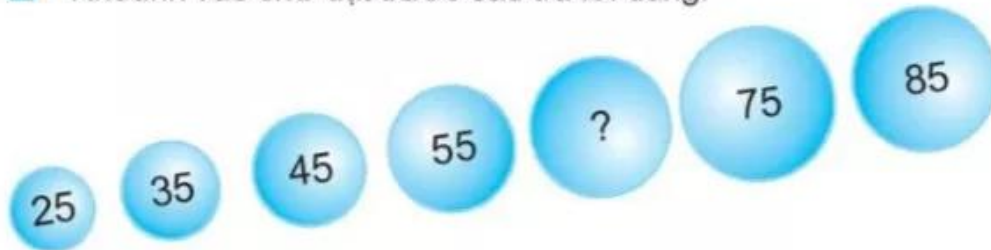
b) Viết số thích hợp vào chỗ chấm.

Trong chợ có tất cả con lạc đà.

4 Tô màu xanh cho chiếc lá ghi phép tính đúng, màu đỏ cho chiếc lá ghi phép tính sai.



5 Khoanh vào chữ đặt trước câu trả lời đúng.



Dấu "?" là kết quả của phép tính nào sau đây?

A. $80 - 20$

B. $15 + 50$

C. $5 + 50$

70

Tiết 4

① Đặt tính rồi tính.

$$\begin{array}{r} 61 + 37 \\ \hline \\ \hline \\ \hline \end{array}$$

$$\begin{array}{r} 35 + 1 \\ \hline \\ \hline \\ \hline \end{array}$$

$$\begin{array}{r} 62 - 22 \\ \hline \\ \hline \\ \hline \end{array}$$

$$\begin{array}{r} 48 - 4 \\ \hline \\ \hline \\ \hline \end{array}$$

② Viết chữ số thích hợp vào ô trống.

$$\begin{array}{r} 1 \square \\ + 62 \\ \hline 77 \end{array}$$

$$\begin{array}{r} 23 \\ + \square 3 \\ \hline 76 \end{array}$$

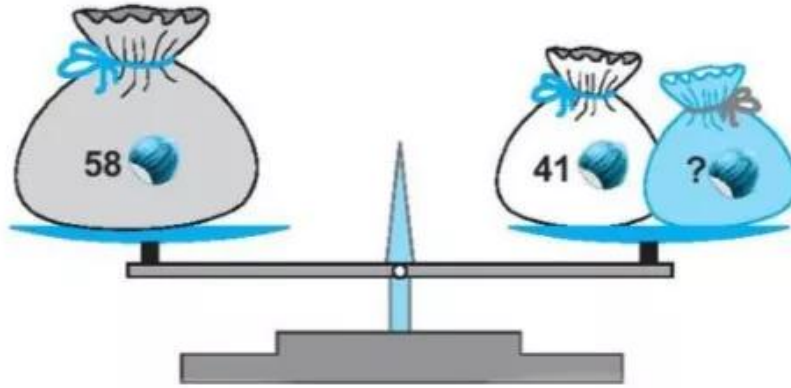
$$\begin{array}{r} 76 \\ - \square 4 \\ \hline 32 \end{array}$$

$$\begin{array}{r} 76 \\ - 4 \square \\ \hline 35 \end{array}$$

$$\begin{array}{r} 35 \\ + \square \square \\ \hline 47 \end{array}$$

$$\begin{array}{r} \square 9 \\ - 6 \square \\ \hline 13 \end{array}$$

3) Biết số hạt dẻ ở hai đĩa cân bằng nhau. Trong túi màu xanh có bao nhiêu hạt dẻ?



a) Viết phép tính thích hợp.

--	--	--	--	--

b) Viết số thích hợp vào chỗ chấm.

Trong túi màu xanh có hạt dẻ.



4) Một bồn hoa có 32 bông hoa màu vàng và 54 bông hoa màu đỏ. Hỏi bồn hoa đó có tất cả bao nhiêu bông hoa?

a) Viết phép tính thích hợp.

--	--	--	--	--

b) Viết số thích hợp vào chỗ chấm.

Bồn hoa có tất cả bông hoa.