

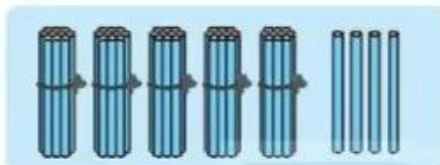
BÀI 39

ÔN TẬP CÁC SỐ VÀ PHÉP TÍNH TRONG PHẠM VI 100

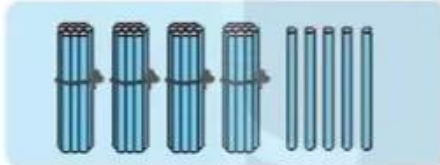
Tiết 1

1 ✎ Viết vào ô trống (theo mẫu).

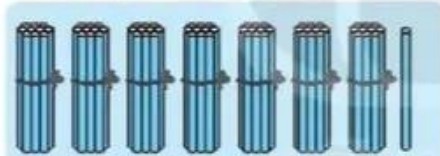
a)



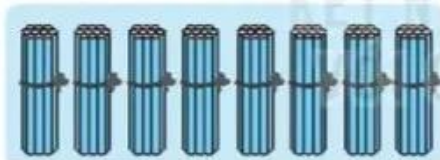
Chục	Đơn vị	Viết số	Đọc số
5	4	54	Năm mươi tư



Chục	Đơn vị	Viết số	Đọc số
4			



Chục	Đơn vị	Viết số	Đọc số



Chục	Đơn vị	Viết số	Đọc số
	0		

b)

Số gồm	Viết số	Đọc số
5 chục và 6 đơn vị	56	Năm mươi sáu
3 chục và 5 đơn vị		
8 chục và 1 đơn vị		
6 chục và 4 đơn vị		

2) ✍️ Viết số thích hợp vào ô trống (theo mẫu).

$46 = 40 + 6$ $75 = \square + \square$ $\square = \square + \square$ $\square = \square + \square$

3) ✍️ Các bạn Hồng, Xuân, Thắng, Lợi lần lượt cao là: 89 cm, 91 cm, 97 cm, 96 cm.

a) Viết vào ô trống tương ứng theo thứ tự các bạn từ thấp đến cao.

Tên				
Cao				

b) Viết tên bạn thích hợp vào chỗ chấm.

Bạn cao nhất. Bạn thấp nhất.

Bạn thấp hơn Lợi và cao hơn Hồng là

4) ✍️ Bạn Việt ghép hai trong ba tấm thẻ (hình vẽ) để được các số có hai chữ số.



Viết tiếp vào chỗ chấm cho thích hợp.

a) Bạn Việt ghép được các số là:

b) Trong các số ghép được, số lớn nhất là; số bé nhất là

Tiết 2

1 a) Viết số thích hợp vào ô trống.

$40 + 30 = \square$

$60 + 10 = \square$

$30 + 50 = \square$

b) Đặt tính rồi tính.

$41 + 46$

.....
.....
.....

$57 + 22$

.....
.....
.....

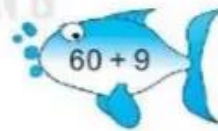
$86 + 13$

.....
.....
.....

$15 + 72$

.....
.....
.....

2 Nói hai phép tính có cùng kết quả.



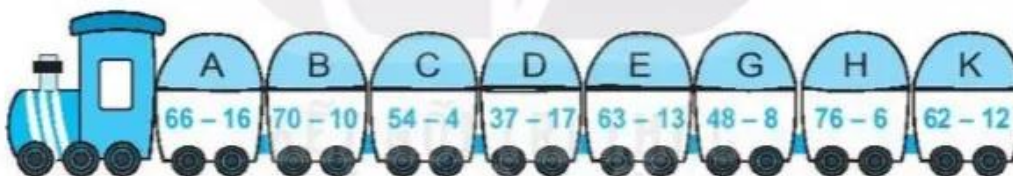
3 a) Đặt tính rồi tính.

$69 - 35$	$77 - 42$	$85 - 41$	$96 - 72$
--------------------------------------	--------------------------------------	--------------------------------------	--------------------------------------

b) Viết số thích hợp vào ô trống.

$90 - 30 = \square$	$70 - 30 = \square$	$50 - 10 = \square$
---------------------	---------------------	---------------------

4 Viết vào ô trống cho thích hợp.



a) Kết quả phép tính ở mỗi toa là:

Toa	A	B	C	D	E	G	H	K
Kết quả	50							

b) Các toa có kết quả bằng nhau là: toa , toa , toa , toa .

Tiết 3

1) a) Viết chữ số thích hợp vào ô trống.

$$\begin{array}{r} 5 \square \\ + 27 \\ \hline \square 8 \end{array}$$

$$\begin{array}{r} 6 \square \\ - 32 \\ \hline \square 5 \end{array}$$

$$\begin{array}{r} \square \square \\ + 35 \\ \hline 69 \end{array}$$

$$\begin{array}{r} 87 \\ - \square \square \\ \hline 44 \end{array}$$

$$5 \square < 30 + 21$$

$$65 < 6 \square < 60 + 7$$

b) Viết số thích hợp vào ô trống.



2) a) Tô màu đỏ vào bông hoa ghi phép tính có kết quả bằng 27, màu vàng vào bông hoa ghi phép tính có kết quả bằng 28, màu xanh vào bông hoa ghi phép tính có kết quả bằng 29.



b) Viết số thích hợp vào ô trống.

Màu	Đỏ	Vàng	Xanh
Số bông hoa			

3 ✎ Viết số thích hợp vào ô trống.

Lớp 1A được nhà trường giao chăm sóc 35 chậu hoa. Lớp 1B được nhà trường giao chăm sóc 42 chậu hoa. Hỏi hai lớp được nhà trường giao chăm sóc tất cả bao nhiêu chậu hoa?



$$\square + \square = \square$$

Hai lớp chăm sóc tất cả chậu hoa.

4 ✎ Khi đo độ dài bằng bước chân, bạn Việt đo được độ dài phòng học là 24 bước chân, độ dài phòng tập múa là 46 bước chân, độ dài phòng thể dục là 90 bước chân.

Khoanh vào chữ đặt trước câu trả lời đúng:

a) Phòng dài nhất là:

A. Phòng học

B. Phòng tập múa

C. Phòng thể dục

b) Phòng ngắn nhất là:

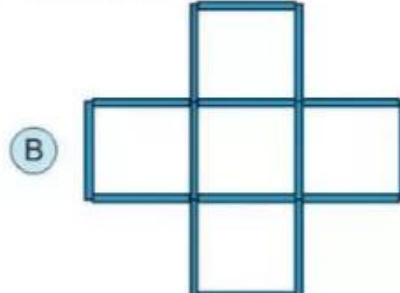
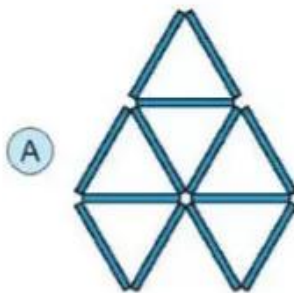
A. Phòng học

B. Phòng tập múa

C. Phòng thể dục

5 ✎ Viết số thích hợp vào ô trống.

Cả hai hình sau đây được xếp bởi bao nhiêu que tính?



$$\square + \square = \square$$

Cả hai hình A và B có que tính.