

BÀI 40

ÔN TẬP HÌNH HỌC VÀ ĐO LƯỜNG

Tiết 1

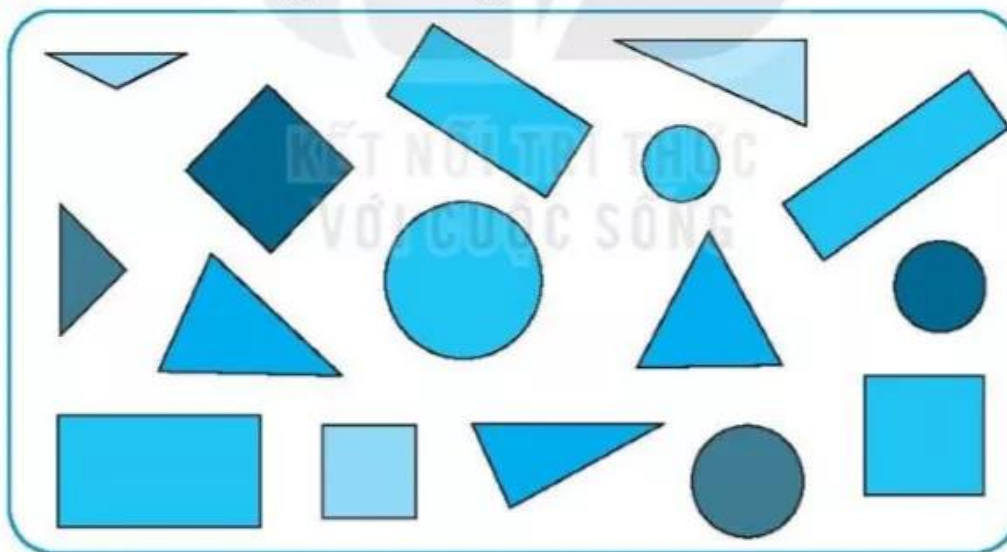
1 a) Tô màu đỏ vào khối lập phương.



b) Tô màu xanh vào khối hộp chữ nhật.



2 Viết số thích hợp vào ô trống.



Trong hình trên có:

hình tam giác.

hình vuông.

hình chữ nhật.


hình tròn.

3 Hình bên được xếp bởi 12 que tính.

a) Viết số thích hợp vào chỗ chấm.

Trong hình bên có hình vuông.


b) Gạch bớt 2 que tính để hình còn lại có 3 hình vuông.



4 Khoanh vào chữ đặt trước câu trả lời đúng.

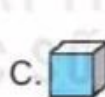
a) □ ○ ▭ ▲ □ ○ ▭ ▲ □ ○ ? ▲

Hình thích hợp đặt vào dấu "?" là:

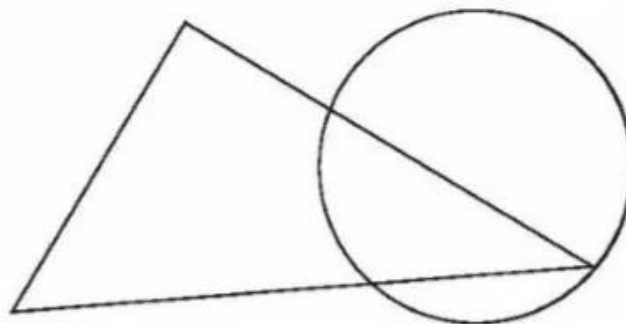


b) ?

Hình thích hợp đặt vào dấu "?" là:



5 Vẽ 3 ngôi sao vào hình bên sao cho trong hình tam giác có 2 ngôi sao và trong hình tròn cũng có 2 ngôi sao.




Tiết 2

1 Nói mỗi bức tranh với đồng hồ thích hợp (theo mẫu).



Mai cùng bố mẹ tới công viên lúc 8 giờ sáng.



Mai cùng bố mẹ tới vườn thú lúc 9 giờ sáng.



Mai cùng bố mẹ bơi thuyền lúc 10 giờ sáng.



Mai cùng bố mẹ về nhà lúc 11 giờ trưa.



Mai tập đàn lúc 3 giờ chiều.



Mai tưới cây lúc 5 giờ chiều.

2 Đúng ghi Đ, sai ghi S.

a) Nếu ngày 27 tháng 4 là thứ hai thì ngày 30 tháng 4 là:

• Thứ năm

• Thứ sáu

b) Buổi sáng chủ nhật, Nam tập đàn từ 8 giờ đến 10 giờ. Vậy thời gian Nam tập đàn là:

• 10 giờ

• 2 giờ

